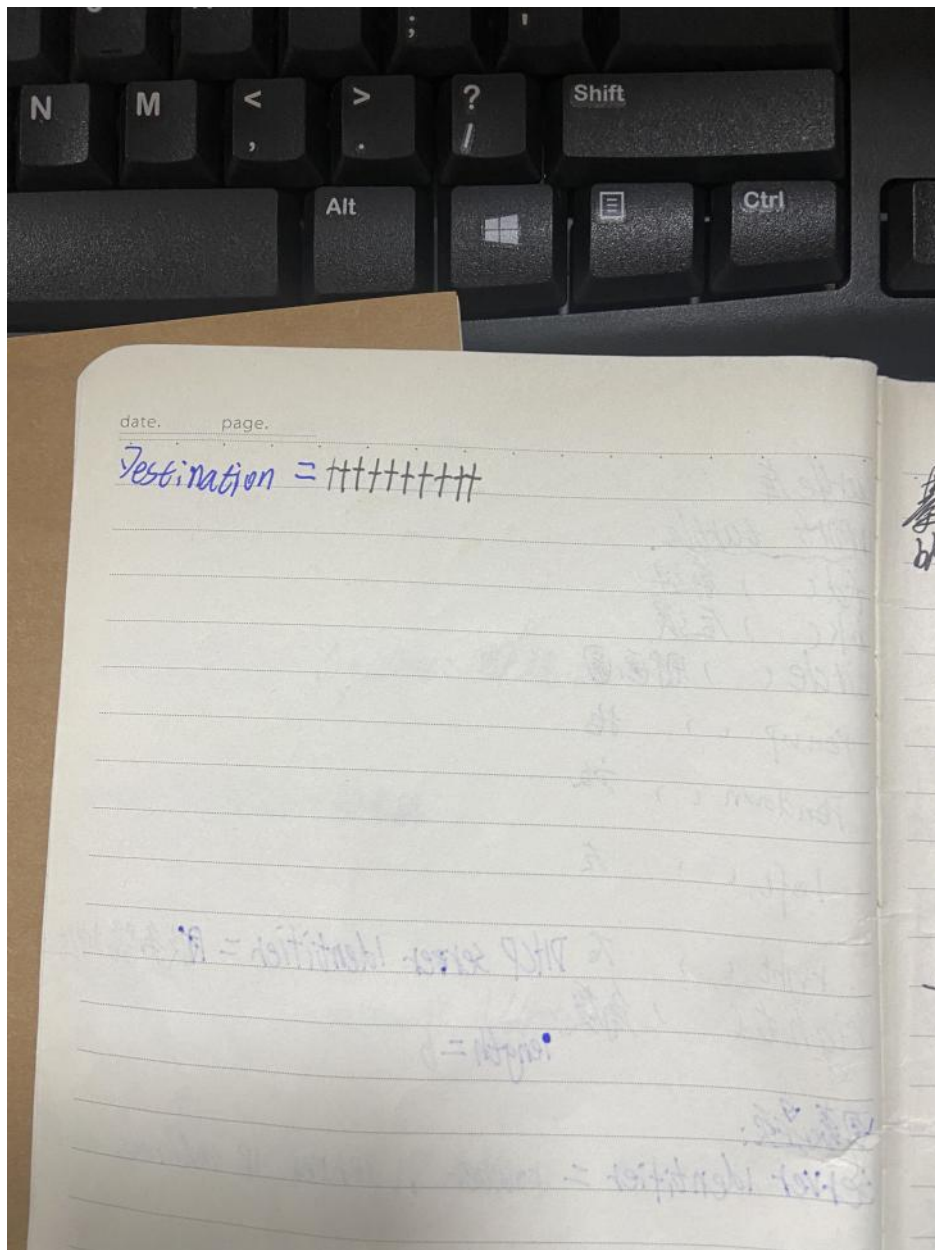


张名鸿笔记

2024年3月22日 20:03



turtle 库

important to the

11-24

~~le~~

rip ()

2. $\frac{1}{2} \times \frac{1}{2} = \frac{1}{4}$

1. *100*

01

19/10/2019

ryhči

圖表如下：

server ident

Yst: Broadcast

client MAC

Client MAC

Requested 1P

client 17 A

DTC server identifier = 服务器地址

图表题:

server identifier = router, server IP address

dst: Broadcast = ++: ++: ++: ++: ++: ++

client MAC address = Src: , Dst:

Requested IP Address = 客户主端地址

client IP Address = ~~服务器IP~~ 看下方报文 (client) IP Address
填写相同

Gateway address: 缺省网关地址,

DNS address:

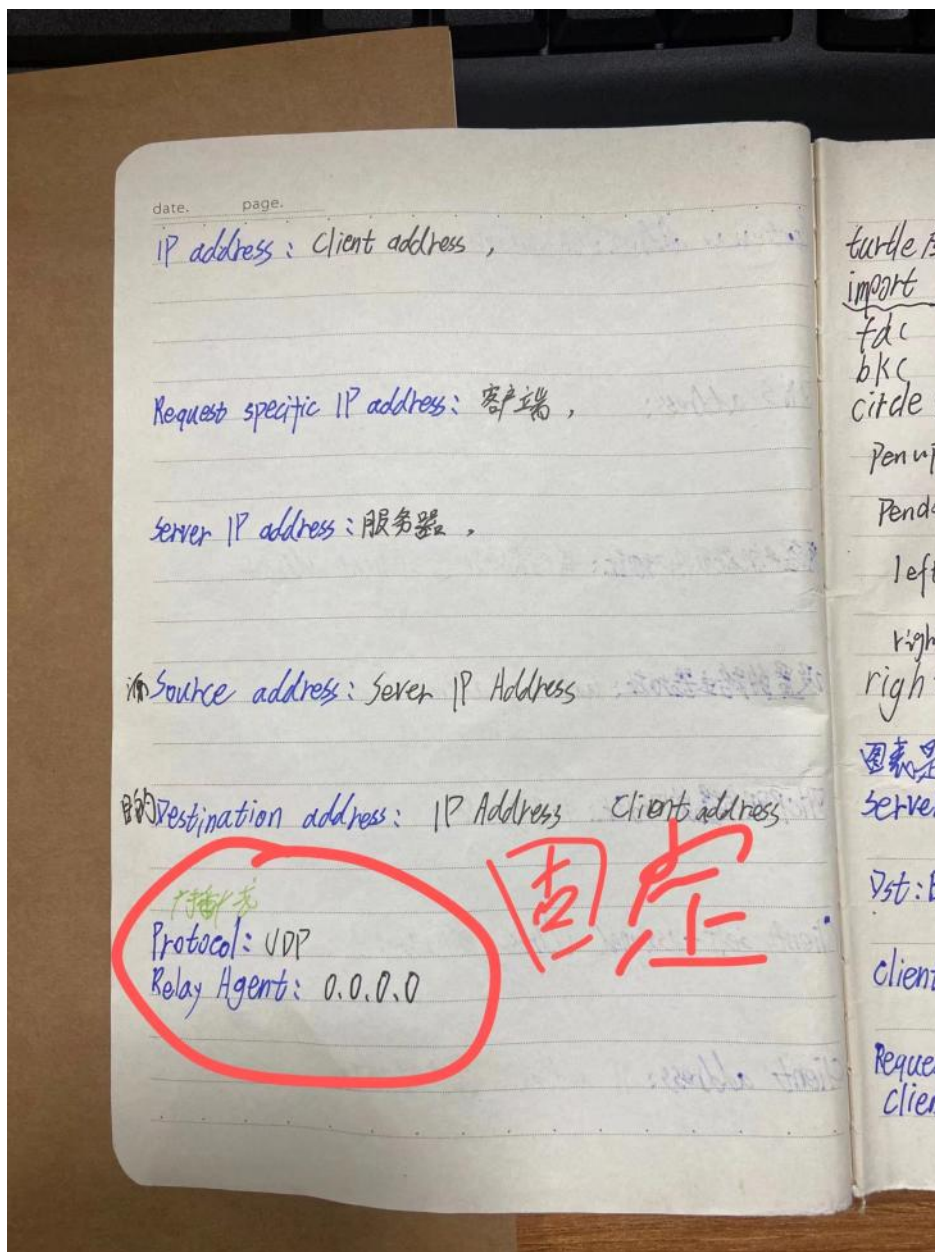
该客户端获取的IP地址: 客户端地址, Client address

设置的路由器地址: Gateway address

DHCP服务器的IP地址: 服务器地址,

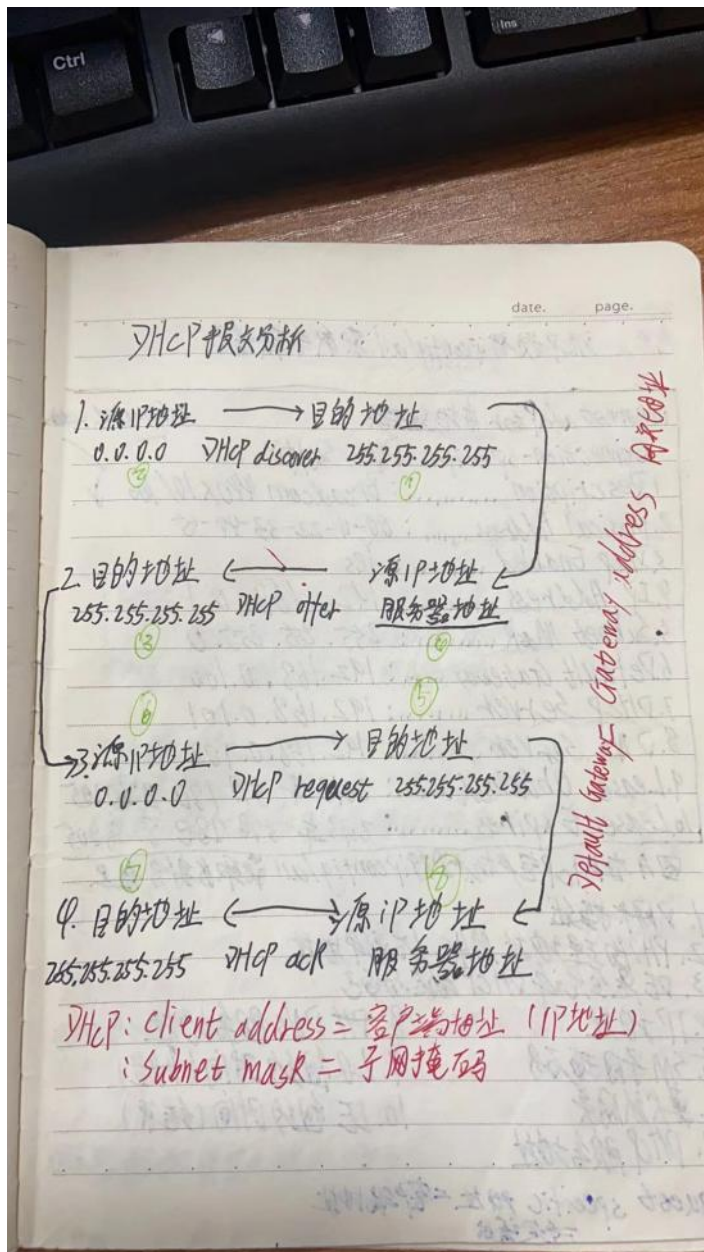
Client self-assigned address: 客户端地址,

Client address: IP address, 客户端地址



第三套大题DHCP报文分析的题

每个空要填的答案



date. page.

考点2. DHCP 执行 ipconfig/all 获取参数信息.

Ethernet adapter 本地连接:

Integrated controller

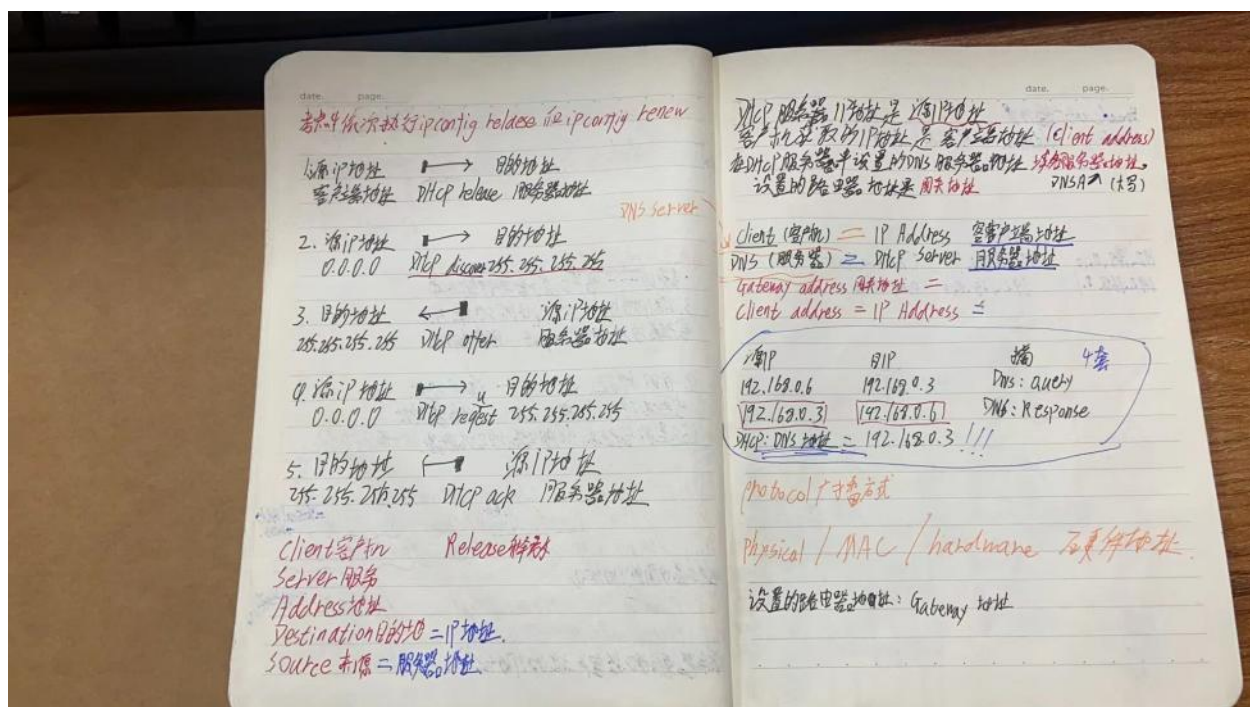
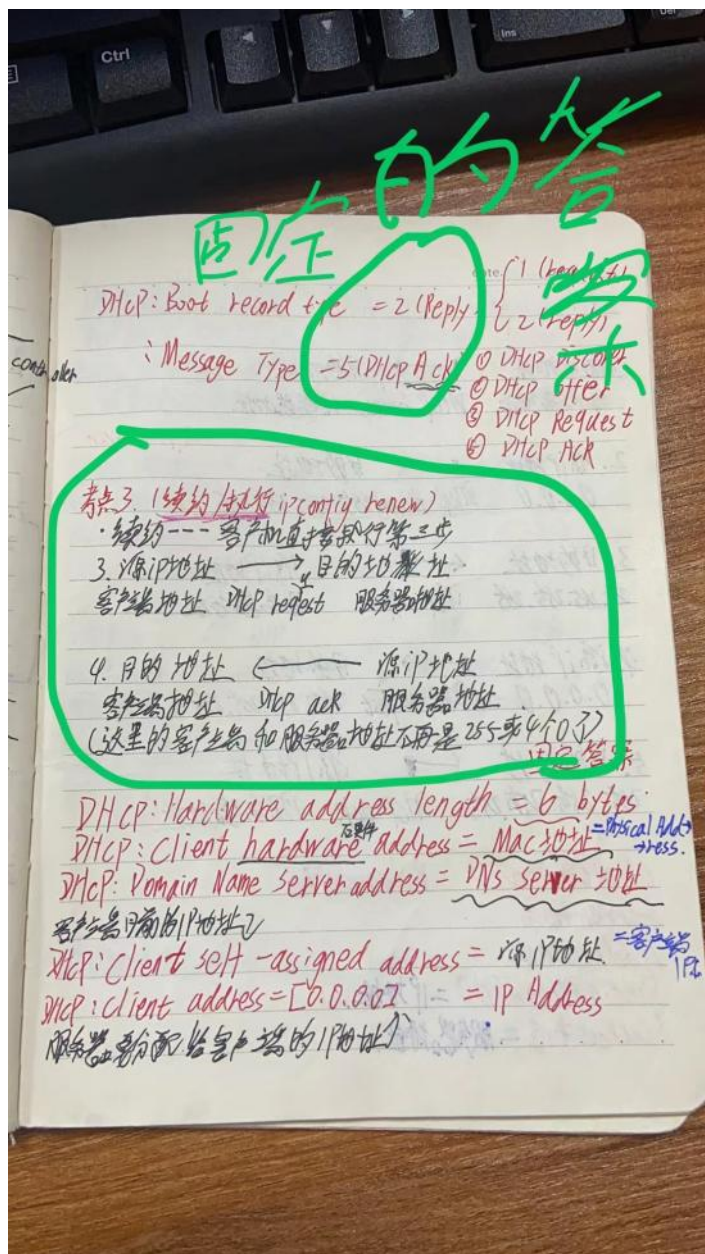
Connection-specific DNS Suffix.:

1. Description: Broadcom 440X 10/100
2. Physical Address: 00-11-22-33-44-55
3. DHCP Enabled: Yes
4. IP Address: 192.168.0.1
5. Subnet Mask: 255.255.255.0
6. Default Gateway: 192.168.0.100
7. DHCP Server: 192.168.0.101
8. DNS Server: 192.168.0.102
9. Lease Obtained: 2013年5月18日 8:30:05
10. Lease Expires: 2013年5月28日 8:30:05

图A在DHCP客户端执行 ipconfig/all 获取参数信息

1. 网卡描述
2. PH物理地址 MAC / 硬件地址
3. DE是否允许 DHCP 动态分配
4. IP地址 (网络地址)
5. SM子网掩码
6. 默认网关
7. DHCP 服务地址
8. DHCP 服务地址
9. LO 租约时间 (开始)
10. LE 租约时间 (结束)

Request specific 地址 = 客户端地址
在客户端



第三套DHCP主要的就是要记住三个模版
填对应的空



abc各三个